

Бланк ответов № 1

Код региона

Код предмета

Название предмета

Резерв - 4

Подпись участника ЕГЭ строго внутри окошка

Заполнять гелевой или капиллярной ручкой ЧЕРНЫМИ чернилами ЗАГЛАВНЫМИ ПЕЧАТНЫМИ БУКВАМИ и ЦИФРАМИ по следующим образцам:

А Б В Г Д Е Ё Ж З И Й К Л М Н О П Р С Т У Ф Х Ц Ч Щ Ъ Ы Ь Э Ю Я
A B C D E F G H I J K L M N O P Q R S T U V W X Y Z , -
1 2 3 4 5 6 7 8 9 0 А А А О О Е Е Е Е І і U u ß ç

ВНИМАНИЕ!

Все бланки и контрольные измерительные материалы рассматриваются в комплекте

Результаты выполнения заданий с КРАТКИМ ОТВЕТОМ

1		21	
2		22	
3		23	
4		24	
5		25	
6		26	
7		27	
8		28	
9		29	
10		30	
11		31	
12		32	
13		33	
14		34	
15		35	
16		36	
17		37	
18		38	
19		39	
20		40	

Замена ошибочных ответов на задания с КРАТКИМ ОТВЕТОМ

	-		
	-		
	-		

Заполняется ответственным организатором в аудитории:

Количество заполненных полей «Замена ошибочных ответов»

Подпись ответственного организатора строго внутри окошка

Код региона	Код предмета	Название предмета	Резерв - 5
00	00	000	000000

Бланк ответов № 2 (лист 2)	0000000000000000000000000000000000	Лист 000
-------------------------------	------------------------------------	----------

Перепишите значения полей "Код региона", "Код предмета", "Название предмета" из БЛАНКА РЕГИСТРАЦИИ.
Отвечая на задания с РАЗВЕРНУТЫМ ОТВЕТОМ, пишите аккуратно и разборчиво, соблюдая разметку страницы.
Не забудьте указать номер задания, на которое Вы отвечаете, например, 31.
Условия задания переписывать не нужно.

ВНИМАНИЕ! Все бланки и контрольные измерительные материалы рассматриваются в комплекте

Large grid area for writing answers.

Код региона

□□

Код предмета

□□

Название предмета

□□□

Резерв - 6

□□□□□□

Дополнительный
бланк ответов № 2

□□□□□□□□□□□□□□□□□□

Лист

□□□

Перепишите значения полей "Код региона", "Код предмета", "Название предмета" из БЛАНКА РЕГИСТРАЦИИ.
Отвечая на задания с РАЗВЕРНУТЫМ ОТВЕТОМ, пишите аккуратно и разборчиво, соблюдая разметку страницы.
Не забудьте указать номер задания, на которое Вы отвечаете, например, 31.
Условия задания переписывать не нужно.

ВНИМАНИЕ! Все бланки и контрольные измерительные материалы рассматриваются в комплекте

A large rectangular area filled with a fine grid of small squares, intended for writing answers to the exam questions.

Единный государственный экзамен по ГЕОГРАФИИ

Инструкция по выполнению работы

Работа состоит из трех частей, включающих в себя 14 заданий. Часть 1 состоит из 5 заданий, посвященных 75-летию Победы в Великой Отечественной Войне, 2 часть состоит из 13 заданий с кратким ответом. Часть 3 содержит 1 задание с развернутым ответом.

На выполнение экзаменационной работы по географии отводится 30 минут.

Ответы к заданиям части 2 (1-13) записываются в виде числа, последовательности цифр или слова (словосочетания). Ответ записите в поле ответа в тексте работы, а затем перенесите в бланк ответов № 1.

КИМ

Ответ:

3	1	2
---	---	---

Ответ:

А	Б	В
2	4	1

Бланк

2	3	1	2																
---	---	---	---	--	--	--	--	--	--	--	--	--	--	--	--	--	--	--	--

7	2	4	1																
---	---	---	---	--	--	--	--	--	--	--	--	--	--	--	--	--	--	--	--

Задание 14 требует развернутого ответа. В бланке ответов № 2 укажите номер задания и запишите ответ на него.

Все бланки ЕГЭ заполняются яркими чёрными чернилами. Допускается использование гелиевой, капиллярной, или перьевой ручки.

При выполнении заданий можно пользоваться черновиком. Записи в чернике не учитываются при оценивании работы.

При выполнении всех заданий работы можно использовать прилагаемые справочные материалы.

Баллы, полученные Вами за выполненные задания, суммируются. Постарайтесь выполнить как можно больше заданий и набрать наибольшее количество баллов.

Желаем успеха!

Пояснения к варианту контрольных измерительных материалов

ЕГЭ по ГЕОГРАФИИ 2020 года

Назначение предложенного варианта заключается в том, чтобы дать возможность обществу составить представление об экзаменационных заданиях. Задания, включённые в вариант, не отражают всех элементов содержания, которые будут проверяться с помощью экзаменационных вариантов в 2020 г. Полный перечень элементов содержания приведён в Кодификаторе. Образец полной экзаменационной работы представлен в демонстрационном варианте и опубликован на сайте Федерального института педагогических измерений (www.fipi.ru).

Копирование НЕ допускается

1

ОТВЕТЫ на задания 1 части запишите в КИМ.

Расположите приведённые ниже Города-Герои в порядке повышения средней многолетней температуры самого холодного месяца, начиная с города с самой низкой температурой.

- 1) Тула 2) Севастополь 3) Мурманск

Запишите в таблицу получившуюся последовательность цифр.

Ответ:

--	--	--

2

Прочитайте приведённый ниже текст, в котором пропущен ряд слов. Выберите из предлагаемого списка слова, которые необходимо вставить на место пропусков.

Географические особенности природы Европейского Севера Значение Северного морского пути в годы Великой Отечественной Войны

Европейский Север имеет важное преимущество в географическом положении. Здесь, за линией полярного круга, расположен крупнейший незамерзающий порт _____ (А) Северного морского пути.

За четыре года Великой Отечественной Войны судами Главсевморпути выполнен большой объём воинских и народно-хозяйственных перевозок. Перевозки нередко осуществлялись при противодействии авиации, подводных и надводных кораблей противника, в минированных прибрежных водах. Главной целью был порт, единственная в Заполярье незамерзающая гавань, в которую приходили конвой союзников из США и Великобритании с техникой, амуницией, продовольствием и стратегическими материалами.

Этот район чрезвычайно богат на полезные ископаемые. Здесь, в долине реки _____ (Б), расположен крупный топливный бассейн угля, нефти и газа. В составе района находится республика _____ (В).

Выберите последовательно одно слово за другим, мысленно вставляя на места пропусков слова из списка в нужной форме. Обратите внимание на то, что слов в списке больше, чем Вам потребуется для заполнения пропусков. Каждое слово может быть использовано только один раз.

Список слов:

- 1) Керчь
2) Мурманск
3) Волга

Копирование НЕ допускается

- 4) Коми
- 5) Крым
- 6) Печора

Ответ: _____

А	Б	В

3

Установите соответствие между субъектом РФ и Городом-Героем, расположенным в этом субъекте РФ: к каждому элементу первого столбца подберите соответствующий элемент второго.

СУБЪЕКТ РФ

Город-Герой

- А) Краснодарский край
 - Б) Республика Крым
 - В) Ленинградская область
- 1) Севастополь
 - 2) Новороссийск
 - 3) Ленинград (Санкт-Петербург)

Запишите в таблицу выбранные цифры под соответствующими буквами.

Ответ: _____

А	Б	В

4

В каких из перечисленных регионов России проводились главные сражения Великой Отечественной Войны? Запишите цифры, под которыми указаны эти регионы:

- 1) г. Москва
- 2) Волгоградская область
- 3) Тюменская область
- 4) Курская область

Ответ: _____

5

Определите регион России по его краткому описанию.

Эта область расположена в лесной зоне. С первых дней Великой Отечественной Войны область подвергалась массированным систематическим бомбардировкам. На начальном этапе Великой Отечественной войны здесь произошло сражение, которое продолжалось 2 месяца: с 10 июля по 10 сентября 1941 года. В результате сражения был сорван гитлеровский план «молниеносной войны». Сражение дало возможность Москве подготовиться к отражению наступления гитлеровцев. Столице области присвоено звание «Город-Герой».

Особенностью ЭГП области является пограничное положение с одной из стран СНГ. По ее территории проходят важнейшие транспортные магистрали, связывающие Россию со странами Западной Европы. Никаких полезных ископаемых, кроме торфа, строительных материалов и небольших запасов бурого угля, в области нет. Основными отраслями промышленности являются машиностроение, химическая, легкая и пищевая промышленность. Энергией хозяйства области обеспечивает крупная современная АЭС.

Ответ: _____

Часть 2

Примеры заданий

Ответами к заданиям 1-13 являются число, последовательность цифр или слово (словосочетание). Ответ запишите в поле ответа в тексте работы, а затем перенесите в БЛАНК ОТВЕТОВ № 1 справа от номера соответствующего задания, начиная с первой клеточки. Последовательность цифр записывайте без пробелов, запятых и других дополнительных символов. Каждый символ пишете в отдельной клеточке в соответствии с приведёнными в бланке образцами.

1

На метеостанциях 1,2 и 3, расположенных на склоне горы на разной высоте, были одновременно проведены измерения температуры воздуха. Полученные значения показаны в таблице. Расположите эти метеостанции в порядке увеличения их высоты над уровнем моря (от наименьшей к наибольшей).

Метеостанции	Температура воздуха, °С
1	5
2	-2
3	1

Запишите в таблицу получившуюся последовательность цифр.

Ответ: _____

--	--	--

2

Что из перечисленного является примером рационального природопользования? Запишите **цифры**, под которыми указаны эти примеры.

- 1) Использование попутного нефтяного газа в качестве сырья для химической промышленности
- 2) Проведение лесозаготовительных работ по берегам рек
- 3) Распашка крутых склонов
- 4) Использование отходов животноводческих хозяйств для получения биотоплива
- 5) Рекультивация земель

Ответ: _____.

3

Прочитайте приведенный ниже текст, в котором пропущен ряд слов. Выберите из предлагаемого списка слова, которые необходимо вставить на место пропусков.

Ночной бриз

Бриз – ветер, возникающий на побережьях. Бриз меняет свое направление дважды в сутки. Ночью водная поверхность остывает быстрее, чем суша. Воздух над поверхностью воды оказывается _____ (А), чем суша. Воздух над сушей, атмосферное давление над водоемом _____ (В), чем над сушей. Поэтому ночной бриз дует с суши на водоем.

Выберите последовательно одно слово за другим, мысленно вставляя на места пропусков слова из списка в нужной форме. Обратите внимание на то, что слов в списке больше, чем Вам потребуется для заполнения пропусков. Каждое слово может быть использовано только один раз.

Список слов:

- 1) Быстрее
- 2) Медленнее
- 3) Теплее
- 4) Холоднее
- 5) Ниже
- 6) Выше

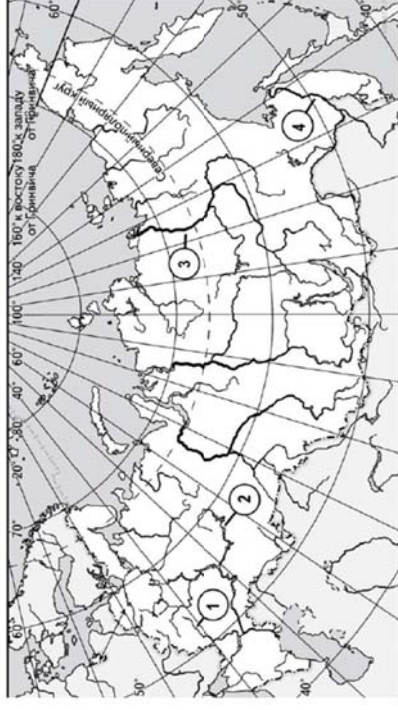
В данной ниже таблице приведены буквы, обозначающие пропущенные слова. Запишите в таблицу под каждой буквой номер выбранного Вами слова.

А	Б	В

Ответ:

4

Установите соответствие между рекой и её обозначением на карте: к каждому элементу первого столбца подберите соответствующий элемент из второго столбца.



Река

- А) Амур
- Б) Кама
- В) Лена

Обозначение на карте

- 1) 1
- 2) 2
- 3) 3
- 4) 4

А	Б	В

Ответ:

5

Какие три из перечисленных стран имеют наибольшую среднюю плотность населения? Запишите в таблицу **цифры**, под которыми указаны эти страны.

- 1) Франция
- 2) Индонезия
- 3) Монголия
- 4) Казахстан
- 5) Япония
- 6) Ливия

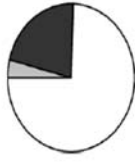
--	--	--

Ответ:

6) Установите соответствие между страной и диаграммой, отражающей распределение её экономически активного населения по секторам экономики: к каждой позиции, данной в первом столбце, подберите соответствующую позицию из второго столбца.

<input type="checkbox"/>	– промышленность	<input type="checkbox"/>	– сельское хозяйство	<input type="checkbox"/>	– сфера услуг
СТРАНА					
РАСПРЕДЕЛЕНИЕ					
ЭКОНОМИЧЕСКИ АКТИВНОГО					
НАСЕЛЕНИЯ					

- 1)
 А) Мали
 Б) Швеция
 В) Иран



Запишите в ответ цифры, расположив их в порядке, соответствующем буквам:

Ответ:

7) Какие из утверждений об Италии верны? Запишите **цифры**, под которыми они указаны.

- 1) Страна обладает ценными агроклиматическими и рекреационными ресурсами
- 2) На территории страны отсутствуют действующие вулканы
- 3) По форме правления страна является республикой, а по административно-территориальному устройству – унитарным государством
- 4) Страна занимает одно из первых мест в зарубежной Европе по производству винограда

5) Главные экономические центры расположены на юге страны.

Ответ:

8) В каких трех из перечисленных центров черной металлургии имеются металлургические комбинаты полного цикла? Запишите в таблицу **цифры**, под которыми указаны эти центры.

- 1) Челябинск
- 2) Ижевск
- 3) Новокузнецк
- 4) Электросталь
- 5) Липецк
- 6) Комсомольск-на-Амуре

Ответ:

9) Какие из утверждений о Северо-Западе России верны? Запишите **цифры**, под которыми они указаны.

- 1) Развитие Северо-Запада сдерживается нехваткой водных ресурсов.
- 2) На Северо-Западе работает АЭС.
- 3) Северо-Запад – один из важнейших в стране районов производства семян подсолнечника и кукурузы на зерно.
- 4) На территории Северо-Запада работает крупнейший медно-никелевый комбинат.
- 5) На Северо-Западе развито энергетическое машиностроение.

Ответ: _____

10) В каких из высказываний содержится информация о естественном движении населения?

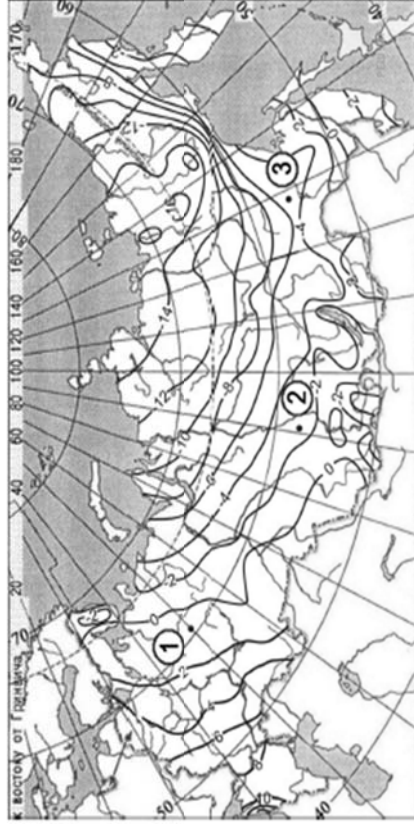
Запишите **цифры**, под которыми они указаны.

- 1) В начале 1990-х гг. жители восточноевропейских стран уезжали в Западную Европу с целью заработать больше и жить лучше.
- 2) Превышение числа людей, прибывших в Россию на постоянное место жительства, над числом выбывших из нее обеспечило рост численности населения страны в 2009 – 2012 гг.
- 3) В XXI в. темпы роста численности населения мира стабилизировались, хотя они по-прежнему остаются довольно высокими – 1,2% в год.
- 4) Причиной сокращения численности населения России в 1995–2008 гг. было превышение числа умерших над числом родившихся.
- 5) По итогам 2015 г, в США на 1 тыс. населения смертность составила 8,4 человека – больше, чем в 2014 г.

Ответ: _____

11 С помощью карты сравните средние годовые температуры воздуха в точках, обозначенных на карте цифрами 1, 2, 3. Расположите эти точки в порядке повышения температуры.

Средняя годовая температура воздуха (в °С)



Ответ:

12 Какие три из перечисленных стран относятся к числу крупнейших производителей кукурузы? Запишите в таблицу **цифры**, под которыми указаны эти страны.

- 1) США
- 2) Алжир
- 3) Китай
- 4) Канада
- 5) Финляндия
- 6) Бразилия

Ответ:

13 Используя данные таблицы, определите, насколько стоимость товаров, ввезенных в Волгоградскую область из стран дальнего зарубежья, превышает стоимость товаров, ввезенных в Волгоградскую область из стран СНГ, в 2013г. Ответ запишите в виде числа (по образцу, указанному в инструкции по выполнению работы).

Внешняя торговля Волгоградской области по группам стран в 2013 г.

	Внешнеторговый оборот (млн. долл.)	Экспорт (млн. долл.)	Импорт (млн. долл.)
Весь мир	4725	4105	620
Страны СНГ	681	452	229
Страны дальнего зарубежья	4044	3653	391

Ответ: _____

Не забудьте перенести все ответы в бланк ответов №1 в соответствии с инструкцией по выполнению работы.

Часть 3

Для записи ответов на задания этой части (14) используйте БЛАНК ОТВЕТОВ №2. Запишите сначала номер задания (14), а затем развернутый ответ на него. Ответ записывайте четко и разборчиво.

14

Определите, в каком из пунктов, обозначенных буквами на карте России, 1 июля Солнце будет находиться **ниже всего** над горизонтом в 7 часов утра по солнечному времени Гринвичского меридиана. Запишите обоснование Вашего ответа.

